



قائمة الاسئلة

التشريح الوظيفي في المجال الرياضي -المستوى الأول -العلوم الصحية والحركية - الكل - كلية التربية الرياضية - درجة الامتحان (50)

أ.د. محمد علي الخولاني

- (1) يتكون حزام الكتف strap shoulder من عدد عظام:
- (1) - 29 عظمه.
 - (2) + 4 عظام.
 - (3) - عظمتين
 - (4) - كلما ذكر خطأ
- (2) من امثلة العظام القصيرة الشكل في جسم الانسان :
- (1) - العظام الإسفينية
 - (2) + عظام الامشاط
 - (3) - عظمة الرضفة
 - (4) - عظمة الجمجمه
- (3) يعتبر العظم القفوي Occipital bone من عظام :
- (1) - القفص الصدري.
 - (2) - حزام الكتف .
 - (3) + الجمجمه.
 - (4) - كلما ذكر خطأ.
- (4) مجموع عظام الطرف السفلي يساوي:
- (1) - 29 عظمة
 - (2) - 64 عظمة
 - (3) + 62 عظمة
 - (4) - 80 عظمة
- (5) توجد العضلة الخياطية muscle sartorius في:
- (1) - الساق
 - (2) + الفخذ
 - (3) - الساعد
 - (4) - لاشيء مما ذكر
- (6) يتكون الساق leg من عظمتي:
- (1) - الزند والشظية ulna and fibula
 - (2) - الكعبره والقصبه radius and tibia
 - (3) + الزند والكعبره ulna and radius
 - (4) - القصبه والشظية fibula and tibia
- (7) يعتبر العظم المكعب واحد من عظام :
- (1) - اليد
 - (2) + القدم
 - (3) - الجمجمه
 - (4) - لاشيء مما ذكر
- (8) يوجد الوتر في العضلة المغزلية ب:
- (1) - بداية العضلة
 - (2) - نهاية العضلة
 - (3) - لاشيء مما ذكر
 - (4) + بداية ونهاية العضلة
- (9) توجد الحفرة العنابية في عظمة:
- (1) - العضد
 - (2) + اللوح
 - (3) - الترقوة
 - (4) - الحوض





- توجد العضلة النصف شوكية في :
- (10)
- (1) - العضد
(2) - المنطقة الخلفية للرقبة
(3) + - المنطقة الامامية للرقبة
(4) - لاشيء مما ذكر
- (11) ينشأ الراس الطويل للعضلة ذات الراسين العضدية من:
- (1) - النتوء الشوكي
(2) - النتوء الاخرومي
(3) + - اعلى الحفرة العنابية
(4) - الحديه الكعبرية
- (12) العضلة التي تعمل على قبض (ثني)الساعد
- (1) - العضلة ذات الرؤوس الثلاثة: (Triceps)
(2) + - العضلة ذات الراشين (Brachii Biceps)
(3) - العضلة العضدية(Brachialis)
(4) - كل ما ذكر صحيح
- (13) ينشأ الراس الطويل للعضلة ذات الرأسين الفخذية femoris biceps من:
- (1) - الخط الجراحي لعظم الفخذية
(2) - الحق الحرقفي
(3) + - الحدية الوركية
(4) - العظم العاني
- (14) تعمل العضلة القابض للرسغ الزندية Carpiuln Flax على:
- (1) + - قبض وتقريب الرسغ
(2) - قبض وتبعيد الرسغ
(3) - تثبيت وتقريب الرسغ
(4) - قبض وبسط الرسغ
- (15) تتصل عظمة الترقوة The Clavicle من الجهة الانسيه مع:
- (1) + - عظمة القص sternum
(2) - النتوء الغرابي process coracoid
(3) - النتوء الاخرومي acromion
(4) - عظمة العضد Hummers
- (16) يبلغ عدد عظام العصص coccyx :
- (1) - 5
(2) - 4
(3) + - لاشيء مما ذكر
(4) - 7
- (17) يقع مشط السبابه بالنسبة لمشط الوسطى من وضعية البطح الى الجهة:
- (1) + - الوحشية
(2) - الانسية
(3) - العلوية
(4) - السفلية
- (18) اهم وظيفة للعمود الفقري Colum Vertebral:
- (1) + - حماية النخاع الشوكي
(2) - امتصاص الصدمات
(3) - تشكيل محوراً للجسم
(4) - كل ما ذكر
- (19) تتصل عظمة اللوح Scapula مع عظم العضد Hummers لتكوين مفصل العضد عن طريق:
- (1) - الحفرة الحرقفية
(2) - البكرة واللقمة
(3) + - الحفرة العنابية



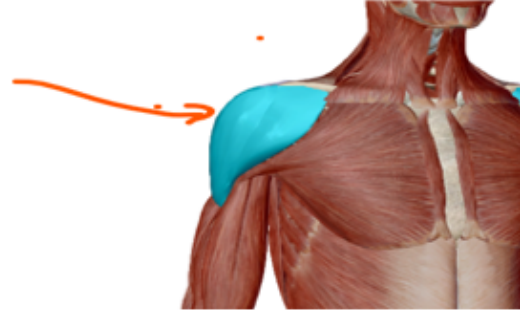


- (4) - لاشيء مما ذكر
(20) توجد الحفرة السينيه في عظمة :
(1) + الزند Ulna
(2) - الكعبرة Radius
(3) - العضد Hummers
(4) - الساق
(21) يتكون رسغ اليد (Carpal) من :
(1) - ثماني عظام، صغيرة الحجم
(2) - ثماني عظام غير منتظمة في الشكل
(3) - صفين من العظام
(4) + جميع الاجابات صحيحه
(22) يوجد العظم الزورقي bone Navicular ضمن عظام
(1) - رسغ اليد
(2) - الوجه
(3) - الساعد
(4) + لاشيء مماذكر
(23) عدد عظام جميع السلاميات: (Phalanges)
(1) - 14 عظمه
(2) - 28 عظمه
(3) + 56 عظمه
(4) - 20 عظمه
(24) تظهر العضلة تحت الميكروسكوب على شكل خيوط مضبنة والذي يجعل منها مضبنة خيوط:
(1) - الاكتين والميوسين
(2) - الميوسين
(3) + الاكتين
(4) - جميع الاجابات صحيحه
(25) تحتوي الليفة العضلية على:
(1) - الاكتين والميوسين
(2) - اللويفة العضلية
(3) - الساركومير
(4) + جميع الاجابات صحيحه
(26) 
في الصورة التشريحية المجاورة يعرف الموضع المشار اليه ب:
(1) - الورك
(2) + لاشيء مماذكر
(3) - الفخذ
(4) - الحوض
(27)





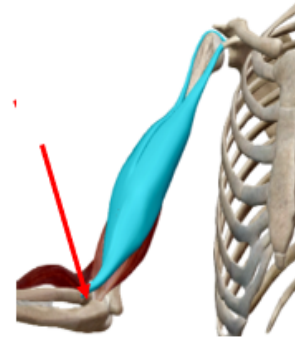
يعرف الموضع المشار اليه بـ



- | | | |
|------------------|---|-----|
| العضلة الدالية | + | (1) |
| عضلة الكتف | - | (2) |
| العضلة فوق اللوح | - | (3) |
| العضلة الصدرية | - | (4) |

(28)

يعرف الموضع المشار اليه بـ



- | | | |
|-----------------------------------|---|-----|
| العضلة ذات الراسين العضدية | - | (1) |
| كلما ذكر صحيح | - | (2) |
| منشأ العضلة ذات الراسين العضدية | - | (3) |
| اندغام العضلة ذات الراسين العضدية | + | (4) |

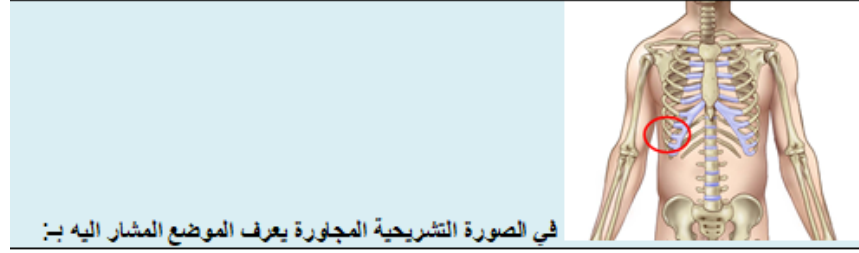
(29)

في الصورة التشريحية المجاورة يعرف الموضع المشار اليه بـ:

- | | | |
|-------------|---|-----|
| عظم العقب | - | (1) |
| عظم الكعب | - | (2) |
| عظم الكاحل | + | (3) |
| مفصل الكاحل | - | (4) |

(30)

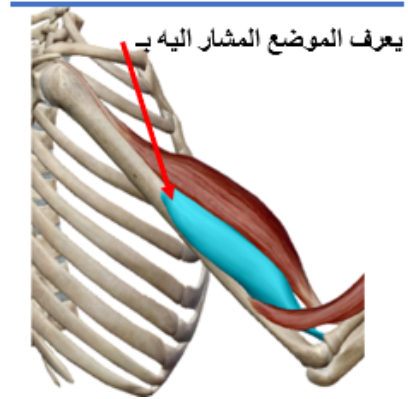




في الصورة التشريحية المجاورة يعرف الموضع المشار اليه بـ:

- (1) - القفص الصدري
- (2) - الاضلاع الصدريه
- (3) + لاشيئ مماذكر
- (4) - الاضلاع العائمه

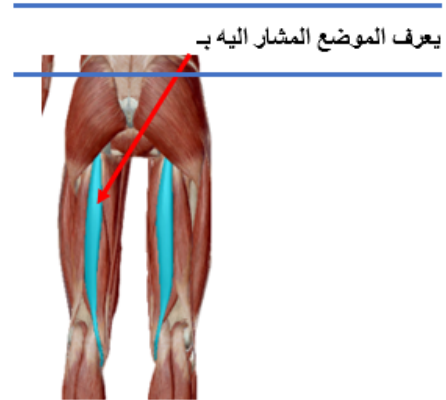
(31)



يعرف الموضع المشار اليه بـ:

- (1) + العضلة العضدية
- (2) - العضلة ذات الرأسين
- (3) - العضلة المربعه
- (4) - عظم العضد

(32)

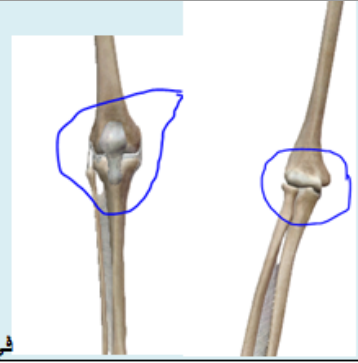


يعرف الموضع المشار اليه بـ:

- (1) + العضلة النصف وترية
- (2) - العضلة النصف غشائية
- (3) - العضلة ذات الثلاثة الرؤوس الفخذية
- (4) - لاشيئ مماذكر

(33)

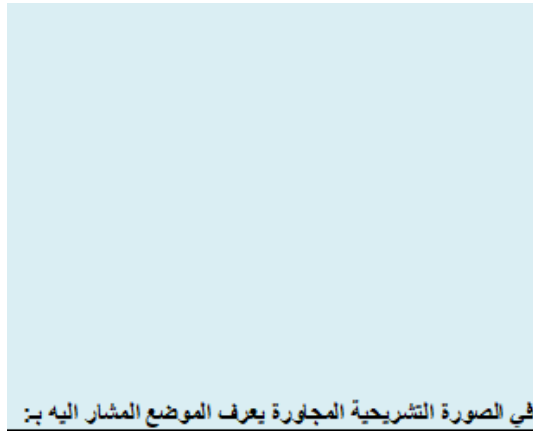




في الصورة التشريحية المجاورة تعتبر المفاصل المشار اليه من

- (1) - الكروي الحقي
- (2) - المحوري
- (3) + الرزي
- (4) - المنزلق

(34)



في الصورة التشريحية المجاورة يعرف الموضع المشار اليه بـ:

- (1) - العضلة الصدغية
- (2) + لاشيء مما ذكر
- (3) - العضلة الوجيه
- (4) - عضلة الفك السفلي

(35)



يعرف الموضع المشار اليه

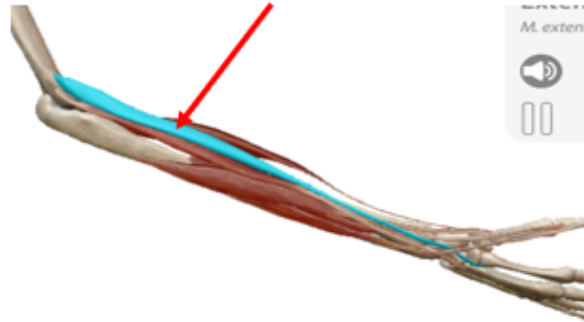
- (1) + العضلة القصبية الخلفية
- (2) - العضلة القصبية الامامية
- (3) - العضلة الشظية الطويلة
- (4) - العضلة الشظية القصيرة

(36)



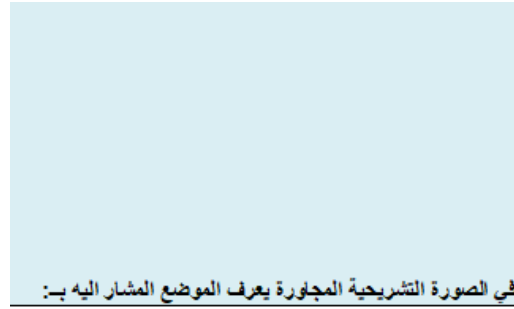


يعرف الموضع المشار اليه بـ



- (1) - العضلة لباسطة للرسغ القصيرة الكعبرية
- (2) + الباسطة للرسغ الطويلة الكعبرية
- (3) - العضلة الباسطة للرسغ الزندية
- (4) - كلما ذكر صحيح

(37)

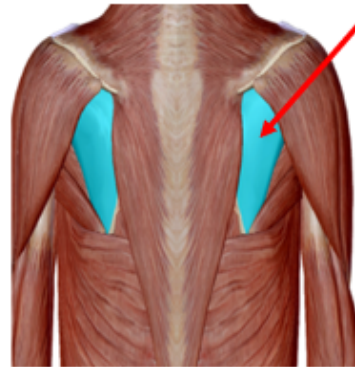


في الصورة التشريحية المجاورة يعرف الموضع المشار اليه بـ:

- (1) - النتوء الاخرومي
- (2) + النتوء الغرابي
- (3) - الحفرة العنابييه
- (4) - شوكة لوح الكتف

(38)

يعرف الموضع المشار اليه بـ



- (1) - العضلة تحت اللوح
- (2) + العضلة تحت الشوكة
- (3) - العضلة فوق الشوكة
- (4) - العضلة الظهرية

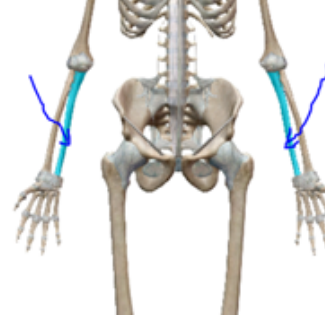
(39)



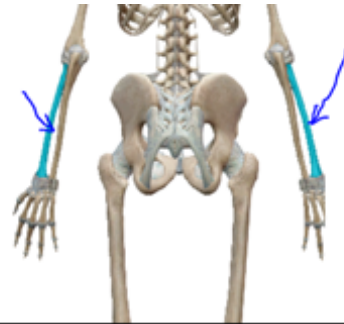


يعرف الموضع المشار اليه بـ

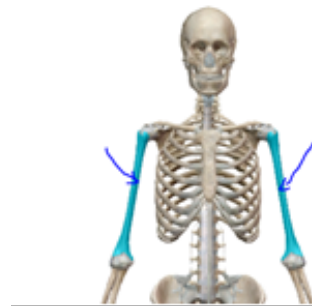
- (1) - العضلة القصية اللامية
(2) + العضلة القصية الترقوية
(3) - العضلة الشوكية
(4) - لاشيء مما ذكر
- (40) ايا من الاجزاء المشار اليها في الصور التاليه يمثل عظمي الكعبره



(1) -



(2) +



(3) -

(4) -



